



POLÍCIA MILITAR DO ESTADO DE SÃO PAULO
DIRETORIA DE PESSOAL – DP

Concurso Público

001. EXAME DE CONHECIMENTOS

PROVA OBJETIVA | PARTE I

Soldado PM de 2ª Classe

- ◆ Você recebeu sua folha de respostas, este caderno, contendo 60 questões objetivas e um tema de redação a ser desenvolvido, e a folha de redação para transcrição do texto definitivo.
- ◆ Confira seus dados impressos na capa deste caderno e nas folhas de respostas e de redação.
- ◆ Quando for permitido abrir o caderno, verifique se está completo ou se apresenta imperfeições. Caso haja algum problema, informe ao fiscal da sala para a devida substituição desse caderno.
- ◆ A folha de redação deverá ser assinada apenas no local indicado; qualquer identificação ou marca feita pelo candidato no verso da folha de redação, que possa permitir sua identificação, acarretará a atribuição de nota zero à redação.
- ◆ É vedado, em qualquer parte da folha de redação, o uso de corretor de texto, de caneta marca-texto ou de qualquer outro material similar.
- ◆ Redija o texto definitivo e preencha a folha de respostas com caneta de tinta preta ou azul. Os rascunhos não serão considerados na correção. A ilegibilidade da letra acarretará prejuízo à nota do candidato.
- ◆ A duração das provas objetiva e dissertativa (redação) é de 5 horas, já incluído o tempo para o preenchimento da folha de respostas e para a transcrição do texto definitivo.
- ◆ Só será permitida a saída definitiva da sala e do prédio após transcorridas 2 horas do início das provas.
- ◆ Deverão permanecer em cada uma das salas de prova os 3 últimos candidatos, até que o último deles entregue sua prova, assinando termo respectivo.
- ◆ Ao sair, você entregará ao fiscal a folha de redação, a folha de respostas e este caderno.
- ◆ Até que você saia do prédio, todas as proibições e orientações continuam válidas.

Nome do candidato _____

RG _____

Inscrição _____

Prédio _____

Sala _____

Carteira _____

AGUARDE A ORDEM DO FISCAL PARA ABRIR ESTE CADERNO.

LÍNGUA PORTUGUESA E INTERPRETAÇÃO DE TEXTO

Leia a tira para responder às questões de números 01 a 03.



(Fernando Gonsales. *Níquel Náusea*. Folha de S. Paulo. 11.04.2002)

01. Assinale a alternativa que explica o efeito de humor da tira.

- (A) Os ratinhos percebem, na estratégia de contar a história lentamente, o medo do rato de que a narrativa não dure o bastante para fazê-los dormir.
- (B) Os ratinhos esperam ansiosamente por uma história que, na realidade, não irá iniciar até que eles comecem a dormir.
- (C) O rato prolonga propositalmente o início da narrativa para instigar a curiosidade dos ratinhos que estão indiferentes.
- (D) A história contada pelo rato não interessa aos ratinhos que, por esse motivo, poderiam dormir antes que ela acabasse.
- (E) O rato tenta prender a atenção dos ratinhos por temer que eles adormeçam antes que a história tenha terminado.

02. Em “Eu estaria mentindo **se** dissesse que o reino era perto, **pois** o reino era realmente distante mesmo!” (3º quadro), os termos destacados expressam, correta e respectivamente, as ideias de

- (A) consequência e causa.
- (B) causa e conclusão.
- (C) explicação e consequência.
- (D) conclusão e condição.
- (E) condição e explicação.

03. No 3º quadro, o termo “**mesmo**” foi empregado com o sentido idêntico ao que ocorre em:

- (A) Todos desejavam o **mesmo**: ouvir histórias antes de dormir.
- (B) Os ratinhos dormiam juntos no **mesmo** quarto.
- (C) Essa é **mesmo** a história que está escrita no livro?
- (D) Queriam ouvir o fim da história **mesmo** sabendo o que aconteceria.
- (E) O pai contava a história sempre do **mesmo** modo.

Leia o poema para responder às questões de números 04 a 05.

Não sei fazer poemas sobre gatos

Não sei fazer poemas sobre gatos

se tento logo fogem

furtivas

as palavras

soltam-se ou

saltam

não capturam do gato

nem a cauda

sobre a mesa

quieta e quente

a folha recém-impressa

página branca com manchas negras:

eis o meu poema sobre gatos

(Ana Martins Marques. *O livro das semelhanças*.
São Paulo: Companhia das Letras, 2015)

04. No poema, o último verso contraria o primeiro, em que o eu lírico afirma não saber fazer poemas sobre gatos. É correto afirmar que essa contradição se deve ao fato de que o eu lírico

- (A) procura escrever um poema sobre gatos que explique como, por meio de seus movimentos e de suas características físicas, esses animais instigam a curiosidade humana.
- (B) nega que possa haver um poeta capaz de escrever um poema a respeito dos gatos, já que esses animais, em razão de sua postura arredia, são naturalmente inapreensíveis à poesia.
- (C) apresenta uma visão particular sobre os gatos, segundo a qual estes seriam animais difíceis de serem descritos, ideia que se diferencia daquilo que usualmente se pensa sobre eles.
- (D) reconhece que as palavras do poema, que lhe escapam, e a própria folha que acabara de imprimir, a qual ainda está quente e com as marcas de tinta preta, possuem características semelhantes às de um gato.
- (E) tem dificuldade de fazer um poema sobre um gato abstrato e, por isso, sente a necessidade de ter um gato concreto para poder descrever o formato de sua cauda e as manchas negras de seus pelos.

- 05.** Considerando o trecho “se tento logo fogem/ furtivas/ as palavras” (versos 2 a 4), é correto afirmar que, para o eu lírico, as palavras
- (A) se mostram e se escondem alternadamente.
 - (B) escapam de maneira despercebida.
 - (C) são complexas demais para serem compreendidas.
 - (D) vão embora deixando sua marca.
 - (E) exprimem muitas ideias com rapidez.

Leia o texto para responder às questões de números **06 a 11**.

Os prejuízos de excluir mulheres de ensaios clínicos

A aspirina foi um dos primeiros medicamentos produzidos em laboratório e amplamente comercializados, ainda no final do século 19. Desde então, foram realizados milhares de testes que avaliaram sua eficácia para diferentes condições de saúde, como na prevenção do infarto. Só recentemente, porém, demonstrou-se que esse efeito não é o mesmo para homens e mulheres: entre elas, não houve redução no risco de sofrer um ataque cardíaco. A aspirina é apenas um dos muitos medicamentos utilizados há décadas e que não foram testados em mulheres em particular.

Tal negligência é agravada porque, a partir da puberdade, a prevalência de uso de medicamentos é maior entre o sexo feminino. Além disso, elas também apresentam cerca de duas vezes mais reações adversas às medicações do que os homens.

As mulheres foram excluídas ou sub-representadas nos ensaios clínicos durante décadas, com consequências históricas e prejuízos que ainda persistem. A talidomida, lançada por um laboratório alemão em 1956, tinha diversas indicações — podia atuar como sonífero, calmante e antiemético, ou seja, para controlar vômitos. Vendida sem prescrição médica e propagandeada como “sem riscos”, acabou sendo adotada por gestantes, para aliviar os enjoos típicos. A talidomida logo se tornou muito popular em 49 países, mas só depois de cinco anos se provou que ela provocava malformações fetais. Cerca de 10 mil bebês foram afetados, e metade não sobreviveu.

Embora a participação de mulheres em ensaios clínicos e até mesmo o uso de roedores fêmeas em testes experimentais tenha aumentado nos últimos anos, o cenário ainda é desigual: elas seguem sub-representadas em estudos de diversas áreas médicas, e algumas pesquisas não analisam os dados por sexo.

Tanta discrepância acarreta erros nos tratamentos, riscos elevados de efeitos adversos e até mesmo uma espera maior por diagnósticos, já que muitos sintomas foram estudados sobretudo em homens. Para proteger a saúde das mulheres, as especificidades delas não podem ser negligenciadas. Elas devem ser incluídas nos estudos clínicos desde o início, e as diferentes respostas entre os sexos precisam ser levadas em consideração.

(Rossana Soletti. *Folha de S. Paulo*. 08.12.2022)

- 06.** O texto deixa evidente que a exclusão de mulheres de ensaios clínicos com medicamentos
- (A) é efeito de uma maior complexidade do corpo desta parte da população, o que impõe desafios aos pesquisadores, impactando negativamente a velocidade do processo de aprovação de um medicamento.
 - (B) está superada nos países desenvolvidos, seguindo a recomendação de organizações de saúde e legislações específicas que protegem a saúde da mulher, embora ainda seja um problema comum no Brasil.
 - (C) colabora para que os efeitos adversos, que são mais leves na população feminina, não sejam percebidos imediatamente, fazendo com que as mulheres convivam por anos com sintomas que afetam suas rotinas.
 - (D) tem consequências graves para a saúde da população feminina, a qual costuma consumir medicamentos com mais frequência, quando comparada aos homens, e precisa ter suas particularidades estudadas.
 - (E) pode causar prejuízos à saúde de gestantes e de fetos, embora seja irrelevante quando não há gravidez, ou seja, nos períodos em que os organismos de homens e mulheres reagem de maneira semelhante a uma mesma substância.
- 07.** A respeito dos medicamentos mencionados no texto, é correto afirmar que
- (A) os danos causados pela aspirina à saúde dos fetos são graves e, portanto, os médicos devem avaliar com cuidado a necessidade de prescrever essa droga no caso de mulheres que estejam gestantes.
 - (B) a maioria dos sintomas físicos, como vômitos e insônia, por serem diferentes nos homens e nas mulheres, tornou a talidomida ineficaz para esse último grupo, o que levou os laboratórios a alertarem sobre os riscos de sua utilização.
 - (C) o caso da talidomida, muito famosa a partir dos anos 50, é um bom exemplo de um remédio que, embora tenha sido largamente testado entre as mulheres, tornou-se prejudicial por não ser usado sob prescrição médica.
 - (D) a aspirina, embora seja utilizada há várias décadas, não tem qualquer efeito no organismo da mulher e, portanto, seu uso atualmente não é considerado seguro para essa população.
 - (E) a talidomida, por controlar vômitos, passou a ser usada por mulheres gestantes nos anos 50, as quais desconheciam os danos que esse remédio poderia provocar, pois não haviam sido devidamente informadas a esse respeito.

08. No trecho – Só recentemente, porém, demonstrou-se que esse efeito não é o mesmo para homens e mulheres: entre elas, não houve redução no risco de sofrer um ataque cardíaco. (1º parágrafo) –, o sinal de dois-pontos foi empregado para introduzir uma

- (A) citação.
- (B) enumeração.
- (C) explicação.
- (D) hipótese.
- (E) condição.

09. No trecho – Embora a participação de mulheres em ensaios clínicos e até mesmo o uso de roedores fêmeas em testes experimentais **tenha aumentado** nos últimos anos... (4º parágrafo) – a forma verbal destacada expressa:

- (A) incerteza em relação ao futuro.
- (B) situação que se repete no momento da fala.
- (C) ação iniciada no passado e já concluída.
- (D) hipótese a respeito do passado.
- (E) fato que ocorre habitualmente.

10. Considere as frases.

- A talidomida, lançada **por** um laboratório alemão em 1956, tinha diversas indicações... (3º parágrafo)
- Elas devem ser incluídas nos estudos clínicos **desde** o início... (5º parágrafo)

Os termos destacados expressam, correta e respectivamente:

- (A) agente e tempo.
- (B) modo e agente.
- (C) causa e tempo.
- (D) agente e modo.
- (E) causa e modo.

11. Em “não houve redução no risco de sofrer um ataque **cardíaco**” (1º parágrafo), o termo destacado pertence à mesma classe de palavra que aquele destacado em:

- (A) ... as **especificidades** delas não podem ser negligenciadas. (5º parágrafo)
- (B) ... só depois de cinco anos se provou que ela provocava malformações **fetais**. (3º parágrafo)
- (C) A aspirina é apenas um dos muitos **medicamentos** utilizados há décadas... (1º parágrafo)
- (D) Vendida sem prescrição médica e propagandeada como “sem **riscos**”... (3º parágrafo)
- (E) A talidomida **logo** se tornou muito popular em 49 países... (3º parágrafo)

12. Durante a gravidez, são comuns os enjoos típicos e as mulheres, para _____, recorriam à talidomida, sem saber dos efeitos colaterais que _____.

De acordo com a norma-padrão de emprego e colocação pronominal, as lacunas do enunciado devem ser preenchidas, respectivamente, com:

- (A) aliviar-nos ... afetariam-as.
- (B) aliviá-los ... as afetariam.
- (C) aliviá-los ... afetar-las-ia.
- (D) os aliviar ... afetariam elas.
- (E) os aliviar ... afetariam-nas.

Leia o texto para responder às questões de números 13 a 18.

Receita de casa

Assim vos direi que a primeira coisa a respeito de uma casa é que ela deve ter um porão. Esse porão deve ser habitável, porém inabitado; e ter alguns quartos sem iluminação alguma, onde se devem amontoar móveis antigos, quebrados, objetos desprezados e baús esquecidos. Deve ser o cemitério das coisas. Ali, sob os pés da família, como se fosse no subconsciente dos vivos, jazerão os leques, as cadeiras, as fantasias do carnaval do ano de 1920, as gravatas manchadas, os sapatos que outrora andaram em caminhos longe.

Quando acaso descerem ao porão, as crianças não de ficar um pouco intrigadas; e como crianças são animais levianos, é preciso que se intriguem um pouco, tenham uma certa perspectiva histórica, meditem que, por mais incrível e extraordinário que pareça, as pessoas grandes também já foram crianças, a sua avó já foi a bailes, e outras coisas instrutivas que são um pouco tristes, mas não de restaurar, a seus olhos, a dignidade corrompida das pessoas adultas.

Convém que as crianças sintam um certo medo do porão; e embora pensem que é medo do escuro, ou de aranhas caranguejeiras, será o grande medo do Tempo, esse bicho que tudo come, esse monstro que irá tragando em suas gargantas negras os sapatos da criança, sua roupinha, sua atiradeira, seu canivete, as bolas de vidro, e afinal a própria criança.

Ao construir o porão deve o arquiteto obter um certo grau de umidade, mas providenciar para que a porta de uma das entradas seja bem fácil de arrombar, porque um porão não tem a menor utilidade se não supomos que dentro dele possa estar escondido um ladrão assassino, ou um cachorro raivoso, ou ainda anarquistas búlgaros de passagem por esta cidade.

Um porão supõe um alçapão aberto na sala de jantar. Sobre a tampa desse alçapão deve estar um móvel pesado, que fique exposto ao sol ao menos duas horas por dia, de tal modo que à noite estale com tanto gosto que do quarto das crianças dê a impressão exata de que o alçapão está sendo aberto, ou o terrível meliante já esteja no interior da casa.

(Rubem Braga. *Um pé de milho*.
Rio de Janeiro: Record, 1982. Adaptado)

13. O autor define o porão como o cemitério das coisas, mas ainda assim recomenda que as casas tenham um espaço como esse, visto que

- (A) os objetos deixados ali, como fantasias, gravatas e sapatos antigos, podem ser reutilizados em algum momento da vida das crianças que moram na casa.
- (B) as crianças descobrem, nos objetos deixados ali, sinais da presença de invasores na casa, como um ladrão assassino ou um cachorro raivoso.
- (C) os adultos poderão ensinar às crianças, por meio dos objetos antigos, a darem o devido valor aos bens materiais e, principalmente, às tradições familiares.
- (D) a dignidade dos adultos, aos olhos das crianças, depende de sua capacidade de guardar as memórias e os objetos antigos em suas próprias casas.
- (E) o porão, por guardar objetos antigos da família, ensina às crianças a reconhecer o passado de seus familiares e a temer a passagem do tempo em suas próprias vidas.

14. De acordo com o narrador, é correto afirmar que personagens como "...um ladrão assassino, ou um cachorro raivoso, ou ainda anarquistas búlgaros de passagem" (4º parágrafo)

- (A) moram nos porões das casas nas grandes cidades, motivo pelo qual são sempre atraídas para esses lugares sombrios.
- (B) colocam em risco a segurança das casas e, por isso, costumam ser afastadas pelos adultos que preferem não ter casa com porão.
- (C) podem servir para educar as crianças sobre os riscos de se dirigir a uma pessoa estranha em um ambiente escondido como um porão.
- (D) são exemplos de figuras que causam medo, mas que podem habitar a imaginação das crianças que vivem em casas com porão.
- (E) estão presentes na maioria das casas com porão, motivo pelo qual o narrador recomenda que se protejam as crianças desses lugares.

15. Assinale a alternativa em que a informação entre parênteses substitui corretamente o termo destacado na frase.

- (A) ... as gravatas manchadas, os sapatos **que** outrora andaram em caminhos longe. (os quais)
- (B) ...esse monstro **que** irá tragando em suas gargantas negras os sapatos da criança... (onde)
- (C) ... a sua avó já foi a bailes, e outras coisas instrutivas **que** são um pouco tristes... (o qual)
- (D) ... um móvel pesado, **que** fique exposto ao sol ao menos duas horas por dia... (em que)
- (E) ... ter alguns quartos sem iluminação alguma, **onde** se devem amontoar móveis antigos... (no qual)

16. Considere as frases.

- **Quando acaso** descerem ao porão, as crianças hão de ficar um pouco intrigadas... (2º parágrafo)
- **Convém** que as crianças sintam um certo medo do porão... (3º parágrafo)

As expressões em destaque podem ser substituídas, correta e respectivamente, sem prejuízo do sentido original, por

- (A) Se por acaso ... É imprevisível.
- (B) Caso ... Sabe-se.
- (C) Se ocorrer de ... É importante.
- (D) Mediante o fato de ... É preciso.
- (E) Mesmo que ... Ocorrerá.

17. Assinale a alternativa em que a vírgula foi inserida no trecho em conformidade com a norma-padrão de pontuação.

- (A) Assim vos direi que, a primeira coisa a respeito de uma casa é que ela deve ter um porão. (1º parágrafo)
- (B) Ao construir o porão, deve o arquiteto obter um certo grau de umidade... (4º parágrafo)
- (C) Convém, que as crianças sintam um certo medo do porão. (3º parágrafo)
- (D) ... providenciar para que a porta de uma das entradas, seja bem fácil de arrombar... (4º parágrafo)
- (E) ... esse monstro que irá tragando em suas gargantas negras, os sapatos da criança... (3º parágrafo)

18. Assinale a alternativa em que o trecho foi reescrito sem prejuízo da norma-padrão de regência.

- (A) Deve tornar-se em um cemitério das coisas. (1º parágrafo)
- (B) ... deve o arquiteto atingir com um certo grau de umidade... (4º parágrafo)
- (C) ... os sapatos que outrora percorreram por caminhos longes... (1º parágrafo)
- (D) Um porão prevê a um alçapão aberto na sala de jantar. (5º parágrafo)
- (E) ... a primeira coisa a respeito de uma casa é que ela deve ser dotada de um porão. (1º parágrafo)

19. Está redigida em conformidade com a norma-padrão de concordância a frase:

- (A) No porão da casa haviam muitos tesouros escondidos, esperando serem descobertos.
- (B) Trata-se de um cômodo da casa pouco frequentado no cotidiano das famílias.
- (C) Falta às casas brasileiras porões que possam servir de espaço para guardar objetos.
- (D) Fundamental para as crianças, os porões são também espaços valiosos para os adultos.
- (E) A construção de casas com porões demandam uma certa atenção dos arquitetos.

20. Adentrei o porão da casa, _____ procura de objetos valiosos, e encontrei um cenário semelhante _____ um labirinto. As paredes úmidas e a penumbra misteriosa despertaram minha curiosidade, revelando os segredos de família _____ muito tempo esquecidos.

Em conformidade com a norma-padrão, as lacunas presentes no texto devem ser preenchidas, respectivamente, com:

- (A) a ... a ... à
- (B) à ... à ... a
- (C) à ... a ... há
- (D) a ... à ... há
- (E) à ... a ... a

21. Em um bairro, há duas linhas de ônibus que passam por determinado ponto de embarque em intervalos de tempo diferentes. Um ônibus da linha A passa nesse ponto a cada 25 minutos, e um ônibus da linha B, a cada 15 minutos. Em um certo dia, às 9 horas e 25 minutos, um ônibus da linha A e um ônibus da linha B passaram ao mesmo tempo por esse ponto. Após as 15 horas desse dia, um ônibus de cada uma dessas linhas voltou a passar ao mesmo tempo, nesse ponto, às

- (A) 15 horas e 15 minutos.
- (B) 15 horas e 25 minutos.
- (C) 15 horas e 55 minutos.
- (D) 15 horas e 40 minutos.
- (E) 15 horas e 10 minutos.

22. Em um município com 72240 habitantes, há um policial para cada 645 habitantes. Se o efetivo policial desse município aumentar em 128 policiais, o município passará a ter um policial para cada

- (A) 301 habitantes.
- (B) 284 habitantes.
- (C) 290 habitantes.
- (D) 296 habitantes.
- (E) 307 habitantes.

23. A delegacia de um bairro registrou 217 ocorrências em um mês. No mês seguinte, essa mesma delegacia registrou 198 ocorrências. Assinale a alternativa que contém o percentual mais próximo que representa a queda do número de ocorrências identificadas.

- (A) 9,0%
- (B) 7,9%
- (C) 8,4%
- (D) 9,3%
- (E) 8,0%

24. Em uma corporação, foi feita a programação de um curso de aperfeiçoamento para um determinado número de participantes. Esse curso será ministrado em grupos retirados do total de participantes. Para a 1ª etapa, serão chamados $\frac{1}{4}$ do total de participantes. Na 2ª etapa, serão chamados $\frac{1}{5}$ do total de participantes. Após essas duas etapas, já terão feito o curso 405 participantes. Para a 3ª etapa, serão chamados $\frac{1}{3}$ daqueles que ainda não foram chamados, e os demais serão divididos em 3 grupos, com igual quantidade de participantes, para participarem do curso nas três últimas etapas.

Considerando essa distribuição, é correto afirmar que a diferença entre o número de participantes da 1ª etapa e o número de participantes da última etapa é

- (A) 120.
(B) 125.
(C) 110.
(D) 105.
(E) 115.
25. Três amigas: Helena, Mara e Selma colecionam discos antigos. O total de discos das três amigas é 314. Mara possui 16 discos a mais que o dobro de discos que Helena tem, e Selma tem 10 discos a mais do que a metade dos discos de Mara. A quantidade de discos que Mara tem a menos do que a soma dos discos de Helena e Selma é
- (A) 4.
(B) 12.
(C) 8.
(D) 2.
(E) 7.
26. Gerson calculou que haveria 18 pessoas na festa de aniversário de seu filho e encomendou salgadinhos de modo que havia 12 salgadinhos para cada pessoa. De fato, estiveram na festa 24 pessoas, e Gerson concluiu que a quantidade de salgadinhos encomendada era suficiente para que cada pessoa comesse
- (A) 10.
(B) 9.
(C) 8.
(D) 7.
(E) 6.

27. Observe a tabela do número de vendas realizadas na última semana por quatro vendedores.

QUANTIDADE DE VENDAS SEMANAIS	
NOME	NÚMERO DE VENDAS
Lucas	12
Alexandre	x
Marina	y
Sofia	36

Sabe-se que, na última semana, a média aritmética simples dos números de vendas por vendedor foi 22 e que Marina realizou 4 vendas a mais do que Alexandre. Desta maneira é correto afirmar que o número de vendas a mais que Marina realizou em relação a Lucas foi

- (A) 10.
(B) 6.
(C) 9.
(D) 11.
(E) 13.
28. O levantamento de horas extras realizadas por um funcionário em 23 dias de trabalho foi o seguinte:

Em 3 dias foram 45 minutos cada dia.

Em 7 dias foram 30 minutos cada dia.

Em 4 dias foram 15 minutos cada dia.

Em 9 dias foram 20 minutos cada dia.

Nesses 23 dias de trabalho, o total de horas extras trabalhadas por esse funcionário foi igual a

- (A) 10 horas e 15 minutos.
(B) 9 horas e 30 minutos.
(C) 9 horas e 45 minutos.
(D) 10 horas e 20 minutos.
(E) 10 horas e 30 minutos.

29. Um percurso de treinamento esportivo de corrida é formado por 6 etapas, de modo que, a partir da primeira etapa, cada nova etapa tem um comprimento de 220 m a mais que a etapa anterior. Sabendo que o total do percurso tem 5,1 km, o total somado das etapas intermediárias: 3ª, 4ª e 5ª corresponde, da distância total do percurso, a uma porcentagem aproximada de:

- (A) 51%
- (B) 47%
- (C) 61%
- (D) 56%
- (E) 58%

30. Uma caixa d'água de uma escola, em formato de um cubo, tem medidas internas de 4 m. Em um determinado dia, essa caixa continha $\frac{3}{4}$ de sua capacidade de água. Durante um serviço de limpeza, foram gastos 19200 litros da água que estava na caixa, ou seja, $19,2 \text{ m}^3$. Após esse serviço, o volume de água que restou na caixa correspondeu, da sua capacidade total, a:

- (A) $\frac{11}{15}$
- (B) $\frac{3}{8}$
- (C) $\frac{9}{20}$
- (D) $\frac{2}{7}$
- (E) $\frac{13}{18}$

31. O terreno a seguir representado é parte de uma herança. Para realizar a partilha com equidade, é necessário conhecer a sua área.

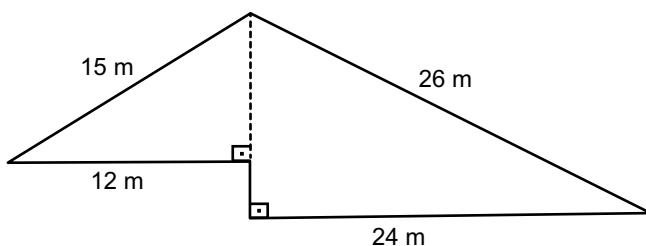


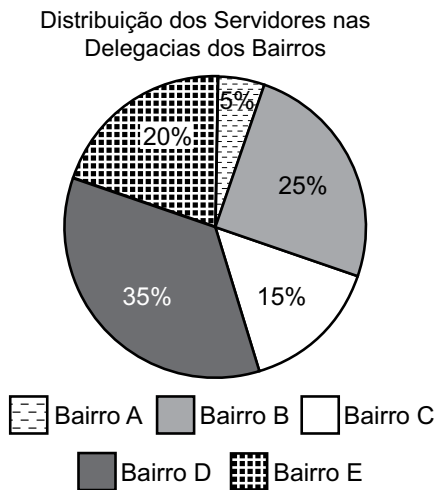
FIGURA FORA DE ESCALA

A área desse terreno é igual a:

- (A) 182 m^2
- (B) 202 m^2
- (C) 196 m^2
- (D) 210 m^2
- (E) 174 m^2

32. Vários militares foram designados para participar de um curso de aperfeiçoamento de procedimentos de ronda escolar. O curso foi ministrado duas vezes, sendo que, na primeira vez, o número total de participantes foi 99 pessoas, incluindo mulheres e homens. Na segunda vez, o número de mulheres foi o dobro mais 7 do número de mulheres que cursaram na primeira vez, e o número de homens foi 5 a menos do que a metade do número de homens que cursaram na primeira vez. Sabendo que, na segunda vez, o total de participantes foi 107, a diferença entre o número de mulheres e o número de homens que participaram do curso foi de
- (A) 30.
 (B) 26.
 (C) 29.
 (D) 33.
 (E) 38.

33. Considere as informações do gráfico apresentado a seguir.



Sabendo que o total de servidores nas Delegacias dos Bairros C e E é 63, o número total de servidores nas Delegacias dos Bairros A, B e D é igual a

- (A) 144.
 (B) 117.
 (C) 130.
 (D) 127.
 (E) 121.

34. A sequência a seguir foi criada com um padrão lógico:

2, 4, 7, 14, 17, 34, 37, 74, ...

Nessa sequência, o primeiro termo que é maior que 1000 está na posição de número

- (A) 18.
- (B) 15.
- (C) 17.
- (D) 16.
- (E) 14.

35. O regime de trabalho em uma empresa é de 3 por 1, ou seja, o funcionário trabalha 3 dias seguidos e folga no quarto dia, não importando se é fim de semana ou feriado. Considere que um funcionário dessa empresa folgou no dia 31 março, e que o mês de abril tem 30 dias, ao passo que o mês de maio tem 31 dias. Subtraindo a quantidade de dias que esse funcionário folgou da quantidade de dias que ele trabalhou, em abril e maio, tem-se como resultado

- (A) 31 dias.
- (B) 32 dias.
- (C) 30 dias.
- (D) 33 dias.
- (E) 34 dias.

CONHECIMENTOS GERAIS

HISTÓRIA GERAL

36. Cercada por mitos e impregnada de intensa propaganda oficial, a expressão “Guerra Fria” se baseia numa premissa básica: a partir do fim da II Guerra Mundial, tamanho era o poderio militar (nuclear) dos Estados Unidos e da União Soviética, que evitavam se destruir, passando a se chocar diplomaticamente e em locais onde não havia risco de conflito nuclear. Esta seria a equação básica para as relações internacionais e, na medida em que o conflito EUA X URSS é ideológico e de aniquilação mútua, o mundo teria que se posicionar entre um e outro, formando áreas de influência e blocos diplomáticos.

(Edgard L. de Barros. A Guerra Fria. Em: Ricardo Faria. *História* – 3. Belo Horizonte: Ed. Lê, 1989, p. 368)

O contexto histórico descrito no texto pode ser corretamente exemplificado

- (A) pelo Tratado de Não Agressão Germano-Soviético (1939), que foi um pacto de neutralidade firmado entre a Alemanha e a URSS.
- (B) pela Primavera Árabe (1999), que foi constituída por revoltas populares contra governos autoritários e políticos corruptos.
- (C) pela Guerra da Coreia (1950-1953), que terminou com a manutenção da divisão entre a Coreia do Norte e a do Sul.
- (D) pela Guerra Civil Espanhola (1937-1939), envolvendo facções políticas e militares, concluindo-se com o general Franco no poder.
- (E) pela extinção da Liga das Nações (1942), em razão da recusa do Congresso estadunidense para que o país participasse dessa organização.

37. Além da Coreia do Sul, outros países asiáticos ganharam grande destaque com o avanço do mundo globalizado. Esses países ficaram conhecidos como os tigres asiáticos.

Além do volume de exportação, também é importante considerar o valor do que é exportado.

Países que exportam bens de maior valor agregado, como, por exemplo, bens de tecnologia, tendem a se beneficiar mais do comércio exterior do que países que exportem bens com característica de *commodities* [produtos básicos globais não industrializados].

(Tiago Reis. Globalização: Você compreende esse termo tão comentado atualmente?

Disponível em: <https://www.sunoo.com.br/artigos/globalizacao/>, 31.01.2018. Acesso em 18.08.2023)

Considerando o contexto apresentado pelo autor, está correto afirmar que o processo de globalização tem como um de seus desdobramentos

- (A) a integração equitativa entre culturas, tecnologias e economias de diferentes países.
- (B) a disseminação de políticas educacionais de natureza fundamentalista.
- (C) a queda do conhecimento científico, em razão da falta de financiamento público.
- (D) a inviabilização de políticas públicas de cunho neoliberal voltadas à proteção do trabalhador.
- (E) a manutenção ou o aprofundamento das desigualdades entre os países.

38. A “causa paulista” foi abraçada com um fervor cívico que ainda não se conhecia no estado, e o entusiasmo feminino superou as expectativas: milhares de mulheres, ricas e pobres, doaram suas joias atendendo ao chamado da campanha Ouro pelo Bem de São Paulo, lançada sob o pretexto de conseguir lastro para pagar os custos de guerra. Entre julho e setembro, por volta de 90 mil alianças de casamento foram entregues ao governo estadual, por suas proprietárias, para serem derretidas.

(Schwarcz, Lília Moritz; Starling, Heloisa Murgel. *Brasil: uma biografia* (p. 616). Companhia das Letras. Edição do Kindle)

O acontecimento histórico abordado pelo texto refere-se ao movimento conhecido como

- (A) Revolução de 1930, em que os estados de São Paulo, Minas Gerais e Rio Grande do Sul levaram Getúlio Vargas ao poder.
- (B) Revolução Constitucionalista de 1932, que mobilizou forças de diversas camadas da população contra o governo provisório de Getúlio Vargas.
- (C) Revolta dos 18 do Forte que, em meados de 1922, se constituiu como a primeira ação do movimento tenentista contra Vargas.
- (D) Intentona Comunista, de 1935, que foi um levante armado liderado por Luís Carlos Prestes, com o apoio de setores insatisfeitos com o governo Vargas.
- (E) Estado Novo, iniciado em 1937, em que o governo Vargas buscou mobilizar apoio popular para a entrada do Brasil na Segunda Guerra.

39. Das sete Constituições brasileiras, quatro foram promulgadas por assembleias constituintes, duas foram impostas e uma aprovada pelo Congresso por exigência do regime militar. Na história das Constituições brasileiras, há uma alternância entre regimes fechados e mais democráticos, com a respectiva repercussão na aprovação das Cartas, ora impostas, ora aprovadas por assembleias constituintes.

(Agência Senado. Constituições Brasileiras.

Disponível em: <https://encurtador.com.br/mFGKQ>. Adaptado)

Assinale a alternativa que apresenta corretamente informações sobre Constituições brasileiras que foram promulgadas.

- (A) A de 1937, marcando período de redemocratização na Era Vargas; e 1988, que encerrou o período ditatorial dos governos militares.
- (B) A de 1946, que foi uma negociação da vitória dos aliados na Segunda Guerra Mundial; e a de 1967, marcada pela decretação de 17 Atos Institucionais.
- (C) A de 1946, constituída após o fim do Estado Novo; e de 1988, conhecida como a Constituição Cidadã, em razão da ampliação das liberdades civis e direitos individuais.
- (D) A de 1937 foi fruto de convocação extraordinária de Assembleia Constituinte, durante o Estado Novo; e a de 1946, que restringiu poderes do governo Vargas.
- (E) A de 1891 foi a primeira do Brasil República, após a derrubada da monarquia; e a de 1967, que determinou o início da redemocratização, no regime militar.

40. A fotografia, a seguir, retrata uma rua do Rio de Janeiro, em 1976.



(Cidade Leopoldina, RJ, 04.11.1976.

Disponível no site memoriasindical.com.br - <https://shre.ink/9puy>)

Analisando a fotografia, que se refere ao período do regime militar, está correto afirmar que ela exemplifica

- (A) a reconstrução de partidos políticos que estavam na clandestinidade desde o AI-5.
- (B) o endurecimento do regime, com o advento do “milagre econômico”.
- (C) a crescente influência das empresas multinacionais na vida cultural brasileira.
- (D) um momento de campanha eleitoral, durante a vigência do bipartidarismo.
- (E) o relaxamento da censura prévia à imprensa, durante o governo Médici.

41. O projeto de lei confeccionado pelo Governo Figueiredo e encaminhado ao Congresso, em 27 de junho de 1979, sofreu modificações. Propostas de emendas legislativas foram escritas e discutidas entre junho e agosto de 1979. Contudo, ainda assim a lei aprovada manteve elementos de restrição e reciprocidade. O famigerado trecho: “Art. 1º É concedida Anistia a todos quantos, no período compreendido entre 02 de setembro de 1961 e 15 de agosto de 1979, cometeram crimes políticos ou conexos com estes” causou e ainda causa intensas controvérsias na interpretação jurídica.

(Brenda Soares Bernardes. *A Anistia de 1979*, p. 6. Disponível em: <https://periodicos.ufes.br/semanadehistoria/article/view/33744/22412>)

Considerando as razões que provocaram controvérsias entre os críticos à Lei mencionada, está correto apontar que a Lei da Anistia

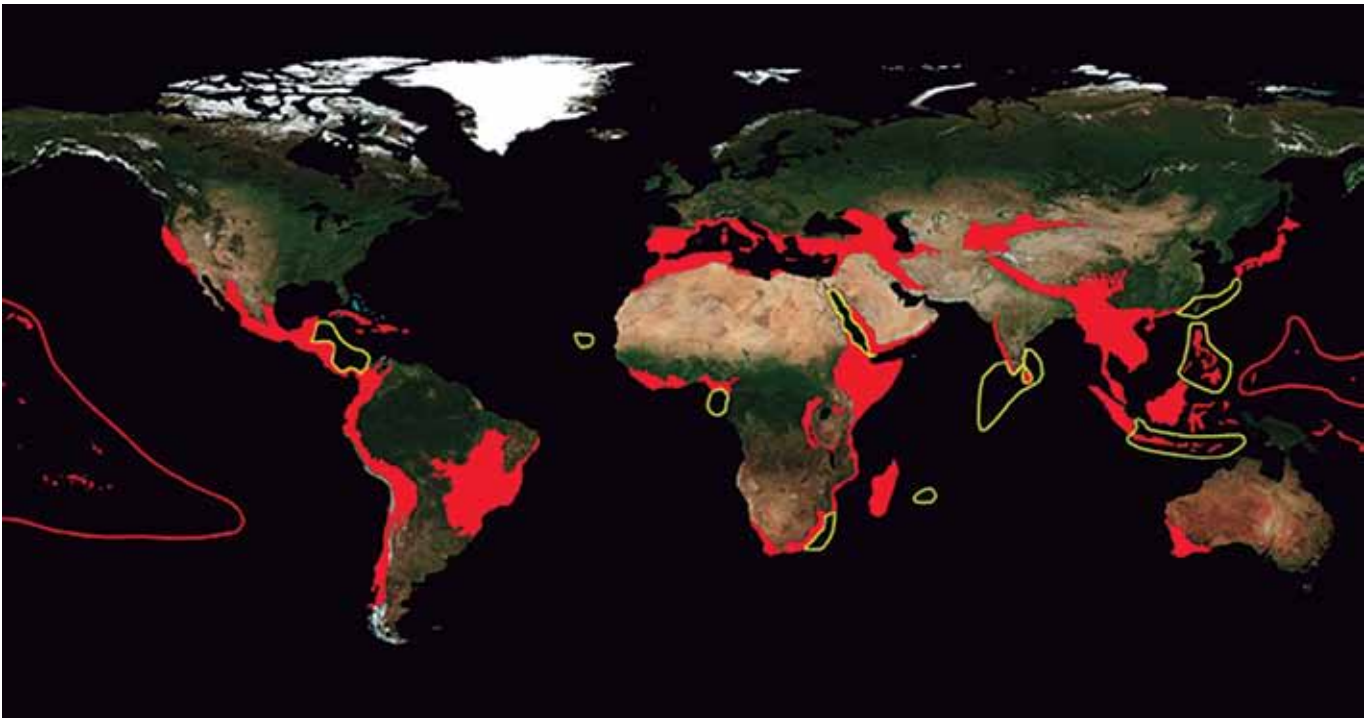
- (A) foi prejudicial a integrantes das Forças Armadas e de outras instituições do Governo Federal, pois estes não foram absolvidos.
- (B) continha exceções, pois não abrangia todos os presos políticos, e beneficiava agentes do poder público que cometeram abusos em nome do Estado.
- (C) acabou beneficiando criminosos comuns, ainda que estes não tivessem a motivação política dos opositores ao regime.
- (D) excluiu integrantes de movimentos de guerrilha ligados a partidos políticos de esquerda, a exemplo do Partido Comunista.
- (E) beneficiou opositores presos e condenados por prática de terrorismo, sequestro, assalto e atentado pessoal de quaisquer naturezas.

42. O fato de a Suécia ter se mantido neutra durante a Segunda Guerra Mundial e no curso da Guerra Fria e de abrir mão dessa condição na guerra entre Rússia e Ucrânia fala tanto sobre as mudanças em curso no próprio país, quanto sobre os significados do conflito atual. Marcada por incertezas no longo prazo, a invasão dos territórios ucranianos pela Rússia convenceu a comunidade internacional do seu poder de redefinir a correlação de forças políticas no globo.

(<https://www.cartacapital.com.br/mundo/>. Acesso em 18.jul.2023)

A redefinição de forças políticas no Globo envolve

- (A) a entrada de países-chave, como a Suécia, na Otan, que amplia sua capacidade de resistência à Rússia.
 - (B) um novo arranjo interno entre os membros da Otan para reduzir a ingerência dos Estados Unidos.
 - (C) o apoio da Suécia para neutralizar o poder de articulação dos Estados Unidos e Reino Unido na Otan.
 - (D) a ascensão de emergentes, como a Turquia e a Polônia, que visam democratizar as ações da Otan.
 - (E) uma redução do número de membros da Otan como forma de evitar o uso de armamentos nucleares.
43. Analise o mapa a seguir.



(<https://jornal.usp.br/radio-usp/hotspots>)

As áreas destacadas no mapa representam *hotspots* que são áreas

- (A) afetadas pelas recentes mudanças climáticas que provocam longos períodos de estiagem e frequentes incêndios.
- (B) que sofrem fortes movimentos tectônicos acompanhados de deslizamentos de terra e erosão dos solos.
- (C) que têm grande potencial de biodiversidade para o planeta, mas que estão sob forte risco de devastação.
- (D) densamente povoadas que sofrem com a escassez de água ou com problemas de distribuição do líquido.
- (E) sujeitas a ciclones acompanhados de chuvas torrenciais causadoras de enchentes e forte poder destrutivo.

44. O bioma ocupa uma área aproximada de 10% do território nacional. Embora esteja localizado em área de baixa pluviosidade, apresenta grande variedade de paisagens, relativa riqueza biológica e espécies que só ocorrem nesse bioma. Os tipos de vegetação do bioma encontram-se bastante alterados, com a substituição de espécies vegetais nativas por pastagens e agricultura. Da área original ocupada por esse bioma, aproximadamente 36% já foram alterados.

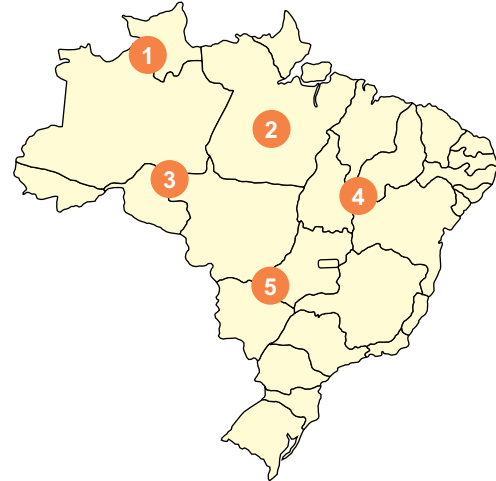
(<https://educa.ibge.gov.br/jovens/conheca-o-brasil/territorio/18307-biomas-brasileiros.html>)

O texto descreve

- (A) o Pampa.
 - (B) o Cerrado.
 - (C) o Pantanal.
 - (D) o Mangue.
 - (E) a Caatinga.
45. Divulgado pelo IBGE (Instituto Brasileiro de Geografia e Estatística) os primeiros resultados do Censo 2022 constataram que a
- (A) população total cresceu menos do que esperado e tornou-se mais envelhecida.
 - (B) região Sul tornou-se a segunda mais populosa e, proporcionalmente, a população rural aumentou.
 - (C) taxa de fecundidade cresceu, e São Paulo permaneceu como o estado mais populoso.
 - (D) taxa de analfabetismo zerou no Sudeste, e o crescimento vegetativo apresentou aumento.
 - (E) densidade demográfica do Centro-Oeste estacionou, e a proporção de crianças aumentou.

46. Apontada como nova fronteira agrícola do país, a região do Matopiba se tornou o principal motor do desmatamento do país nos últimos anos, devido à expansão do agronegócio. A disputa por terras tem pressionado comunidades tradicionais, expulsando alguns povos da região. Com 73 milhões de hectares, o Matopiba responde por aproximadamente 10% da produção de grãos e fibras no país, com destaque para a soja, milho e algodão.

(<https://noticias.uol.com.br/colunas/carlos-madeiro/2022/08/13/avanco-agro-no-matopiba-expulsa-povos-e-responde-por-23-do-desmate-no-pais.html>. Acesso em 17.jul.2023)



(Arquivo pessoal; imagem usada com autorização)

A região do Matopiba está representada no mapa pelo número

- (A) 3.
 - (B) 2.
 - (C) 4.
 - (D) 1.
 - (E) 5.
47. A geração de energia elétrica a partir de fontes renováveis no ano passado (2022) alcançou a marca de 92%. O resultado foi divulgado pela Câmara de Comercialização de Energia Elétrica (CCEE), em fevereiro de 2023.

(<https://agenciabrasil.ebc.com.br/economia/noticia/2023-02/brasil-bate-recorde-em-geracao-de-energia-renovavel>. Acesso em 17.jul.2023)

A expansão da energia renovável teve forte impulso das fontes

- (A) de biomassa produzida a partir do bagaço de cana e o hidrogênio verde.
- (B) solar e eólica que têm maior geração na região Nordeste.
- (C) eólica e hidrelétrica aumentada pela transposição do São Francisco.
- (D) hidrelétrica devido às novas usinas inauguradas e de biomassa.
- (E) termelétrica e de hidrogênio verde gerada na Amazônia.

48. Elon Musk e centenas de especialistas mundiais assinaram um apelo para uma pausa de seis meses na pesquisa sobre IAs (inteligências artificiais) mais potentes do que o ChatGPT 4, o modelo da OpenAI lançado este mês. Eles dizem que podem ser “grandes riscos para a humanidade”.

O texto é assinado por personalidades que expressaram seus temores sobre uma IA que supere os humanos. Entre eles estão Musk, dono do Twitter e fundador da SpaceX e da Tesla, e o historiador Yuval Noah Hariri.

(<https://www1.folha.uol.com.br/tec/2023/03/elon-musk-e-especialistas-pedem-pausa-em-pesquisa-sobre-inteligencia-artificial.shtml>, 29.03.2023. Adaptado)

Dadas as preocupações demonstradas, está correto afirmar que os especialistas solicitam

- (A) o fim da censura imposta por governos de vários países, com a finalidade de assegurar garantias fundamentais para a livre expressão.
- (B) uma moratória para as empresas *big techs*, responsáveis pelo desenvolvimento de IA, até que sejam estabelecidos protocolos internacionais de financiamento.
- (C) maior controle das atividades realizadas pelas empresas do Vale do Silício, para evitar a concorrência desleal de gigantes do setor.
- (D) governos comprometidos com o desenvolvimento de sistemas que respeitem a sustentabilidade ambiental e promovam a redução das desigualdades sociais.
- (E) instituições capazes de fazer frente à perturbação econômica e política, especialmente para a democracia, que a IA poderá causar.

49. Um dos pontos que facilitaram a adesão de estados à reforma tributária (PEC 45/19) foi o fundo que será criado para bancar, com recursos da União, os benefícios fiscais relativos ao ICMS concedidos pelos estados no âmbito da chamada guerra fiscal.

Entretanto, a Lei Complementar nº 24/75, que criou o Conselho Nacional de Política Fazendária (Confaz), prevê que as decisões sobre a pauta devem ser unânimes. O conselho reúne todos os secretários de Fazenda estaduais e do Distrito Federal.

(<https://www.infomoney.com.br/politica/recursos-da-uniao-para-creditos-da-guerra-fiscal-facilitaram-apoio-dos-estados-a-reforma-tributaria/>, 07.07.2023. Adaptado)

A “guerra fiscal” mencionada pela notícia caracteriza-se

- (A) pela concentração de riqueza e maior poder de compra dos estados mais industrializados do país, razão pela qual estes são tributados de forma diferenciada.
 - (B) pela tributação de recursos devidos ao governo federal, que serão diferenciados com o objetivo de beneficiar os estados mais pobres.
 - (C) pelo maior poder de fiscalização do governo federal sobre o pagamento de tributos dos estados mais desenvolvidos e informatizados do país.
 - (D) pela isenção ou cobrança menor de tributos, para estimular empresas de outros estados a se instalarem no território que concede o benefício.
 - (E) pela desigualdade no repasse de recursos dos fundos estaduais, por parte do governo federal, para a execução de políticas sociais.
50. O Brasil tem feito frequentes discursos em fóruns internacionais defendendo a reforma do Conselho de Segurança da ONU, apontando, por exemplo, que o organismo precisa ter mais representatividade e incluir países da América do Sul, da África e mais países da Europa e da Ásia.

(G1.com. Disponível em: <https://X.GD/6L6FW>. 01.07.2023. Adaptado)

Em relação ao Conselho de Segurança da ONU, está correto afirmar que

- (A) o Brasil ocupará, até o final de 2023, um dos dez assentos rotativos, ficando responsável pela presidência rotativa em outubro de 2023.
- (B) seis países, dentre eles o Brasil, possuem assentos permanentes e têm o poder de vetar qualquer medida aprovada pela assembleia do Conselho.
- (C) o Brasil não participa desse organismo multilateral, razão pela qual tem reivindicado um assento temporário, desde o início dos anos 2000.
- (D) as resoluções debatidas só podem ser reprovadas por consenso entre os dez países – dentre eles o Brasil – que ocupam os assentos permanentes.
- (E) os cinco países que ocupam assentos não permanentes, incluindo o Brasil, possuem direito de voto e poder de veto e podem assumir a presidência rotativa.

NOÇÕES BÁSICAS DE INFORMÁTICA

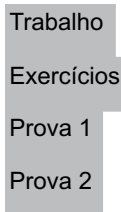
51. Um soldado, por meio do Explorador de Arquivos do MS-Windows 10, ambos em configuração padrão, abriu, em seu computador, uma pasta local contendo muitos arquivos referentes a fotografias para preparação de uma documentação.

Para selecionar todos os arquivos dessa pasta local aberta, o usuário pode usar o atalho por teclado

- (A) Ctrl + A
- (B) Shift + B
- (C) Alt + T
- (D) Alt + A
- (E) Ctrl + T

52. Um usuário, elaborando um documento por meio do MS-Word 2010, em sua configuração padrão, digitou 5 parágrafos e selecionou os 4 parágrafos finais, conforme se vê na imagem a seguir.

Lista de Atividades:



Após fazer a seleção, aplicou uma formatação de parágrafo que resultou na imagem vista a seguir.

Lista de Atividades:

- Trabalho
- Exercícios
- Prova 1
- Prova 2

O recurso utilizado foi:

- (A)
- (B)
- (C)
- (D)
- (E)

53. Um soldado elaborou a planilha a seguir por meio do MS-Excel 2010, em sua configuração original.

	A	B	C	D	E	F
1	Bairro	Maior	Junho	Julho	Media	Situação
2	Bairro A	50	40	57	49	20+
3	Bairro B	30	12	12	18	20-
4	Bairro C	15	25	17	19	20-

Assinale a alternativa que apresenta a fórmula aplicada na célula F2 que está de acordo com os valores apresentados na imagem.

- (A) =SE(MÉDIA(B2:D2)>20;"20-";"20+")
- (B) =SE(MÉDIA(B2:D2)>20;"20+";"20-")
- (C) =SE("20+";MÉDIA(B2:D2);>20;"20-")
- (D) =SE(MÉDIA(B2:D2);>20;"20+";"20-")
- (E) =SE(>20;MÉDIA(B2:D2);"20+";"20-")

54. Um usuário preparou uma apresentação por meio do MS-PowerPoint 2010, em sua configuração padrão, para ser utilizada durante uma aula de laboratório, e fez uso, dentre outros recursos, dos indicados pelas imagens 1 e 2, exibidas a seguir.



Imagem 1



Imagem 2

Os recursos das imagens 1 e 2 são, respectivamente:

- (A) Animação e Inserir Novo Slide.
- (B) Apresentação e Inserir Novo Slide.
- (C) Transição e Comparação.
- (D) Transição e Animação.
- (E) Animação e Transição.

55. Por meio do navegador Google Chrome, versão 109, um soldado deseja consultar as páginas de internet acessadas no dia anterior. Para isso, deve utilizar o recurso _____, acessado por meio do atalho por teclado _____.

Assinale a alternativa que preenche, correta e respectivamente, as lacunas do texto.

- (A) Histórico ... Ctrl + D
- (B) Histórico ... Ctrl + H
- (C) Downloads ... Ctrl + J
- (D) Favoritos ... Ctrl + D
- (E) Favoritos ... Ctrl + F

NOÇÕES DE ADMINISTRAÇÃO PÚBLICA

56. Reconhecendo a ausência de regulamentação do benefício previsto na Lei nº 10.835/2004 (Institui a renda básica de cidadania e dá outras providências), em 2021, o Supremo Tribunal Federal (STF) determinou ao governo federal implementar, a partir de 2022, o pagamento do programa de renda básica de cidadania para os brasileiros em situação de extrema pobreza e pobreza. O instrumento processual impetrado junto ao STF e que originou essa decisão foi o seguinte:

- (A) *habeas data*.
- (B) ação popular.
- (C) mandado de segurança.
- (D) mandado de injunção.
- (E) *habeas corpus*.

57. Um exemplo de contratação por tempo determinado para atender a necessidade temporária de excepcional interesse público é a admissão, nos termos de regulamento, de Guarda-Vidas, para a execução de atividades de prevenção a afogamentos e salvamento aquático nas praias litorâneas e em águas interiores no Estado, a fim de atender a população durante os períodos de maior frequência a esses lugares.

Considerando-se o exposto, sobre funções públicas, é correto afirmar que

- (A) são acessíveis aos brasileiros que preencham os requisitos estabelecidos em lei, não sendo permitido estrangeiros.
- (B) são exercidas exclusivamente por servidores comissionados.
- (C) a remuneração não poderá exceder o subsídio mensal do Governador no âmbito do Poder Executivo.
- (D) é permitido o acúmulo, de forma remunerada, quando houver compatibilidade de horários.
- (E) a investidura depende de aprovação prévia em concurso público de provas ou de provas e títulos, de acordo com a natureza e a complexidade do cargo.

58. Em junho de 2023, o Supremo Tribunal Federal (STF) decidiu sobre recurso interposto, pelos advogados de defesa, contra decisão do Tribunal de Justiça Militar do Estado de São Paulo (TJM-SP), que decretou a perda da graduação de praça de um policial militar, condenado por violência doméstica e disparo de arma de fogo.

De acordo com a Constituição do Estado de São Paulo, a Justiça Militar estadual

- (A) tem competência para decidir sobre perda do posto e da patente dos oficiais, apenas.
- (B) não tem competência nem para decidir sobre perda do posto e da patente dos oficiais, nem sobre perda da graduação das praças.
- (C) tem competência para decidir sobre perda da graduação das praças, apenas.
- (D) tem competência para decidir sobre perda da patente dos oficiais, apenas.
- (E) tem competência para decidir sobre perda do posto e da patente dos oficiais e da graduação das praças.

59.

Nigerianos que viajaram 13 dias em leme de navio tinham comida para apenas três [...]

Resgatadas em condições 'precárias de saúde', quatro pessoas cruzaram o Atlântico em compartimento de embarcação mercante.

(*Jornal O Globo* - Por Paulo Assad — Rio de Janeiro – 11.07.2023)

Os quatro nigerianos que chegaram, nesta segunda-feira, à costa brasileira escondidos sobre o leme de um navio mercante tinham comida para apenas três dias [...]. A viagem, que teve início em Lagos, na Nigéria, durou mais do que triplo disso, tendo eles percorrido cerca de 5, 5 mil km do Oceano Atlântico ao longo de 13 dias [...].

A costa marítima brasileira lida com diversas situações, a exemplo da retratada, em que nigerianos foram encontrados no leme de um navio que atracou no Espírito Santo, sendo necessária a fiscalização do fluxo migratório no país em meio náutico, portuário e aquaviário também.

Com base na Constituição Federal brasileira de 1988, o exercício da função de polícia marítima brasileira cabe

- (A) às guardas civis.
- (B) à polícia federal.
- (C) à defesa civil.
- (D) às polícias militares e ao corpo de bombeiros militares.
- (E) às polícias dos três entes federativos e à Marinha.

60. De acordo com o Decreto nº 58.052/12 (Regulamenta a Lei nº 12.527/11, que regula o acesso a informações, e dá providências correlatas), é dever dos órgãos e entidades da Administração Pública Estadual promover, independentemente de requerimentos, a divulgação em local de fácil acesso (inclusive na *internet*), no âmbito de suas competências, de documentos, dados e informações de interesse coletivo ou geral por eles produzidas ou custodiadas. Em outras palavras, cabe à Administração Pública a transparência ativa. No entanto, há ainda dificuldades dos governos, em suas três esferas, em implementar a Lei de Acesso à Informação. Não sendo possível conceder o acesso imediato à informação, a Administração Pública deverá manifestar-se, por meio do respectivo Serviço de Informações ao Cidadão (SIC), em prazo

- (A) de até 20 dias, podendo ser prorrogado mediante justificativa.
- (B) não superior a 5 dias, improrrogável.
- (C) não superior a 15 dias, podendo ser prorrogado sem necessidade de justificativa.
- (D) não superior a 10 dias, improrrogável.
- (E) de até 10 dias úteis, prorrogável por mais 5 dias úteis.

REDAÇÃO

TEXTO 1

Neste Dia do Trabalho, os trabalhadores têm pouco a comemorar e estão bastante insatisfeitos com sua vida profissional. Pelo menos é isso que mostra um estudo realizado pelo portal Empregos.com.br em parceria com a Universidade de Brasília (UnB), que ouviu 257 profissionais de todo o país, e investigou três frentes: salário, horas de trabalho e trabalho remoto.

Quando o assunto é jornada de trabalho, 38,6% discordam que a carga de trabalho é adequada – ou seja, o volume de atividades extrapola as 44 horas semanais. Não à toa, 43% afirmam trabalhar mais horas do que o definido no contrato. 42,6% afirmam que a jornada está dentro do combinado. E o trabalho “extra” também é realidade daqueles que atuam em regime *home office*. Segundo o levantamento, 49,4% afirmam que trabalham fora do horário comercial para concluir tarefas; 47,5% afirmam que chefes ou colegas entram em contato fora do expediente; e 45,1% afirmam trabalhar mais em casa em comparação ao trabalho presencial. Sobre flexibilidade, apenas 36,7% dizem que têm autonomia sobre suas horas de trabalho.

(Luciana Lima. *Dia do Trabalho: brasileiros estão insatisfeitos com salário e jornada profissional*. <https://exame.com>, 01.05.2023. Adaptado)

TEXTO 2

A semana de trabalho de quatro dias foi testada e aprovada no Reino Unido: 92% das empresas que participaram do projeto-piloto, realizado entre junho e dezembro de 2022, vão manter o formato de trabalho mais curto. O projeto “The 4-Day Week Global” (quatro dias por semana, em tradução livre) testa a modalidade de jornada que envolveu 2 900 funcionários de 61 empresas com atuação no país. Nela, o profissional recebe 100% do salário trabalhando 80% do tempo, em troca de um compromisso de manter 100% de produtividade (modelo que ficou conhecido como 100-80-100).

A média de receita das companhias participantes cresceu até 35% na comparação com os mesmos seis meses de anos anteriores. Além disso, o número de profissionais que deixaram as empresas caiu 57% durante o teste. Entre os funcionários, 90% afirmam que “definitivamente desejam continuar a trabalhar” neste formato de quatro dias por semana. Uma fatia de 15% vai além: afirma que nenhuma quantidade de dinheiro seria suficiente para eles aceitarem um próximo trabalho com cinco dias de expediente. Considerando o bem-estar no trabalho, 71% dos funcionários afirmam que tiveram uma redução nos níveis de *burnout* (estresse crônico associado ao local de trabalho), 43% observam uma melhora na saúde mental, 39% se sentem menos estressados e 37% registram uma certa melhora física de saúde.

(Giovanna Sutto. *Trabalhar 4 dias por semana? Empresas do Reino Unido adotam modelo após 6 meses de testes*. <https://www.infomoney.com.br>. 27.02. 2023. Adaptado)

TEXTO 3

Não há nada que impeça que uma empresa em funcionamento no Brasil encurte a jornada de trabalho para apenas quatro dias por semana. Contudo, Vinícius Fluminhan, professor de direito trabalhista da Universidade Presbiteriana Mackenzie Campinas, ressalta que, no Brasil, essa mudança poderia acarretar um efeito colateral: o aumento do duplo emprego, seja oficial, seja por meio de “bicos”. “É uma característica nossa, da nossa economia, de nosso mercado de trabalho, decorrente do fato de termos remunerações baixas”, explica. “Metade dos trabalhadores hoje ganha um salário mínimo ou pouco mais do que isso. Então uma medida como essa, mesmo que venha com o intuito de trazer maior conforto, maior bem-estar para o trabalhador que teria mais tempo livre para usufruir do ócio, traria um risco de as pessoas procurarem um segundo emprego”, acrescenta.

O efeito provocado com a medida poderia ser o inverso do esperado. Em vez de três dias livres para o lazer, a prática esportiva e as atividades familiares, muitos trabalhadores teriam jornadas duplas “encavaladas”, com o objetivo de melhorar os ganhos. Fluminhan cita como exemplo o que já ocorre em algumas profissões com jornadas de 12 horas de trabalho por 36 horas de descanso — de atividades de segurança à área da saúde: é muito comum que esses profissionais utilizem o tempo dilatado entre uma jornada oficial e outra para um emprego paralelo ou para a prática de “bicos”.

(Edison Veiga. *O que emperra a implantação da jornada semanal de 4 dias no Brasil*. <https://www.bbc.com>, 16.08.2021. Adaptado)

Com base nos textos apresentados e em seus próprios conhecimentos, escreva um texto dissertativo-argumentativo, empregando a norma-padrão da língua portuguesa, sobre o tema:

A JORNADA DE TRABALHO SEMANAL DE QUATRO DIAS É MEDIDA QUE PROMOVE QUALIDADE DE VIDA OU GERA MAIS SOBRECARGA AO TRABALHADOR BRASILEIRO?

REDAÇÃO

Os rascunhos não serão considerados na correção.

1	
2	
3	
4	
5	
6	
7	
8	
9	
10	
11	
12	
13	
14	
15	
16	
17	
18	
19	
20	
21	
22	
23	
24	
25	
26	
27	
28	
29	
30	
31	
32	
33	

RASCUNHO

NÃO ASSINE ESTA FOLHA

